

WINTER HOLIDAY HOMEWORK 2018-2019 PRIMARY SECTION

WINTER BREAK HOMEWORK FOR CLASS 3

Q.1 Answer the following questions.

1. What did the mother tiger hunt when the sky was dark?
 2. Why did the child go with puppy?
 3. What does the baby do with the pebbles?
 4. What is the vegetable man selling ?
 5. Where do the trains run ?
 6. Where was the man going ?
-

Q.2 Give Rhyming words of the following:

Plains Fine Hill Get

Q.3 Choose the word from bracket and fill in the blanks:

- a) A _____ is a person who brings our letters. (driver / postman)
- b) A _____ is a person who washes our clothes. (singer / washer man).
- c) A _____ is a person who drives a motor vehicles. (driver/nurse)
- d) A _____ is a person who mends our shoes. (clown/cobbler)

Q. 4 Fill in the blanks:

- 1) Bruno is my(pet /dish)
- 2) Daddy gives him a new(fish /dish)

Q.5 Write five sentences about 'Doberman ' and ' german shepherd'

Q.6 Write a letter to your friend telling him about your school using the clues:

(classrooms, children, bell, blackboard, teacher, building.)

Q.7 Encircle the correct spelling:

- a) Mountain montation mountain
- b) Noghty naughty nauty
- c) Mouse mouce mause

Q.8 Complete the spellings:

- a) D__sk b) N__u__hty. c) E__e__p__a __ __

Q.9 Put the jumbled words in correct order:

- a) Rtain b) folw c) resoh d) lubl

केंद्रीय विद्यालय जूनागढ़
(शीतकालीन गृह- कार्य)

नाम: _____

विषय : हिन्दी

कक्षा : चौथी

वर्ग: _____

पठन

प्र:१ नीचे दिए गए गद्यांश को पढ़कर प्रश्नों के उत्तर लिखिए ।

साबरमती में सब कोई न कोई काम करना होता है - खाना पकाना, बर्तन धोना, कपडे धोना , कुएँ से पानी लाना , गाय और बकरियों का दूध दुहना और सब्जी उगाना । धनी का काम था बिन्नी कि देखभाल करना । बिन्नी आश्रम कि एक बकरी थी । धनी को अपना काम पसंद था क्योंकि बिन्नी उसकी सबसे अच्छी दोस्त थी ।

उस दिन सुबह, धनी बिन्नी को हरी घास खिला कर, उसके बर्तन में पानी डालते हुए बोला, कोई बात जरूर है बिन्नी! वे सब गांधीजी के कमरे में बैठकर बातें करते हैं । कोई योजना बनाई जा रही है । मैं सब समजता हूँ ।

“अम्मा, क्या गांधीजी कहीं जा रहे हैं ?” उसने पूछा ।

खाँसते हुए माँ बोली, “ वे सब यात्रा पर जा रहे हैं ।”

१) साबरमती में लोग क्या क्या काम करते थे?

उत्तर: _____

२) बिन्नी कौन थी ?

उत्तर: _____

3) धनी की दोस्त कौन थी ?

उत्तर: _____

4) गाँधीजी कहाँ जा रहे थे ?

उत्तर: _____

5) वाक्य पूर्ण करो ।

धनी को अपना काम पसंद था क्योंकि बिन्नी उसकी सबसे अच्छी _____
थी ।

(ब) नीचे दिए गए अनुच्छेद को पढ़कर प्रश्नों के उत्तर लिखिए ।

हमारे देश का नाम भारत है । हमारे देश का नाम भारत है । हमारे राष्ट्रीय ध्वज में तीन रंगों की पट्टियाँ हैं । इसलिए ही इसे तिरंगा कहा जाता है । इसमें सबसे ऊपर केसरिया रंग की पट्टी है । यह केसरिया रंग साहस, भक्ति तथा त्याग का प्रतीक है । ध्वज के बीच में सफ़ेद रंग की पट्टी है । सफ़ेद रंग हमें सत्य, शांति और पवित्रता की प्रेरणा देता है । हमारे राष्ट्रीय ध्वज में सबसे नीचे हरे रंग की पट्टी है । हरा रंग हमारे देश की हरियाली और खुशहाली का सूचक है ।

(क) हमारे राष्ट्रीय ध्वज को तिरंगा क्यों कहते हैं ?

(ख) राष्ट्रीय ध्वज में कितने रंगों की पट्टियाँ हैं ?

(ग) केसरिया रंग किसका प्रतीक है ?

(घ) ध्वज के बीच में कौन-से रंग की पट्टी है ?

(ङ) हरा रंग किस का सूचक है ?

लेखन (गद्य/पद्य)

प्र:२ प्रश्नों के उत्तर लिखिए

- १) पढ्कू का नाम पढ्कू क्यों पड़ा होगा ?
- २) धनी बिन्नी की देखभाल कैसे करता था ?
- ३) जुगाली करने वाले चार पशुओं के नाम लिखो ।
- ४) बैल की गर्दन में क्या बंधी हुई थी ?
- ५) धनी ने गांधी जी से सुबह के समय बात करना क्यों ठीक समझा होगा ?
- ६) नाटक का नाम ' थप्प रोटी थप्प दाल ' क्यों है ?
- ७) " कौन " कविता लिखकर याद करो ।

व्याकरण

प्र:३ सूचना अनुसार करो ।

१)सही जगह पर बिंदी () या चन्द्र बिंदी() लगाओ।

आख , गाव , बद , कहा , ठडा , पसद

२) विलोम शब्द लिखिए।

आज़ादी , मीठा , सच्चा , गर्म , स्वतंत्रता , न्याय

३) सही जगह पर नुक्ता (.) लगाइए ।

बाजार , पढना , पेड , जरा , कपडे, दरवाजा

४)सयुंक्ताक्षर वाले शब्द पर गोले का निशान लगाइए ।

बच्चा, काम , सच्चा , दाम

५)समानार्थी शब्द लिखिए ।

प्रयत्न , ढब , आँख , पानी , छल

६)क्रिया शब्द के उचित रूप से वाक्य पूर्ण कीजिए ।

मछली जल में _____ | (रहना)

राम _____ रहा है | (लिखना)

७)उचित विशेषण लिखिए ।

दाल , रोटी , बच्चे , आश्रम, बैल

८)लिंग बदलिए ।

शेर , मोर , माताजी , लेखक ,मालिक

९)बहुवचन कीजिए ।

बिल्ली , मछली ,किताब , खिड़की , पत्ता, रोटी

१०) सर्वनाम को रेखांकित कीजिए ।

- * वह आता ही होगा ।
- * तुम क्या कर रहे हो ?
- * आपका नाम क्या है ?

११) वाक्य बनाओ ।

* गज़ब * चरखा * पागुर

१२) मुहावरों के अर्थ लिखिए ।

* दिन रात एक करना *नौ दो ग्यारह होना

रचनात्मक लेखन

प्रश्न-४ १) गांधी जी के बारे में पाँच वाक्य लिखिए ।

२) किसान पर पाँच वाक्य लिखिए ।

३) नाताल पर पाँच वाक्य लिखिए ।

वर्तनी

प्रश्न- ५ १) शुद्ध शब्दों पर सही का निशान लगाइए ।

कोल्हू कोलाहू कोलऊ

पर्वत	परवत	प्रवत
मकखान	मक्खन	मखन
अश्रम	असराम	आश्रम

२) शुद्ध वर्तनी वाले शब्द से रिक्त स्थान भरिए ।

* गांधी जी _____ में गायों को देख रहे थे । (गवशाला / गौशाला)

* धनी _____ की क्यारियों की तरफ़ गया । (सब्ज़ी / सबजी)

* टिंकू को _____ बनाना नहीं आता है । (दाल / दला)

३) शब्दों को शुद्ध करके लिखो ।

सतायाग्रह - _____ सवाद - _____

४) शब्द पूरे करो ।

* दो_त * __भिन__ * रंग__च

५) शब्द बनाए ।

* च्च - बच्चा - _____

* ल्ला - बल्ला - _____

Winter break homework for class IV

SUBJECT: Maths

Q:1. Fill in the blanks.

(1) Name two states which are situated in Northern part of India

_____ and _____

2) i) Perimeter of a rectangle = _____

ii) Perimeter of a square = _____

iii) volume of a square = _____

(3) Write the given numbers in words

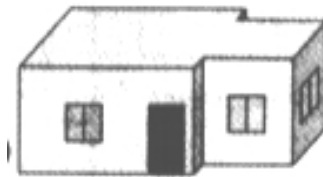
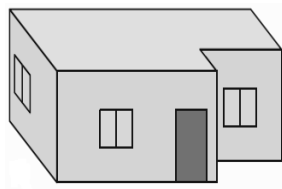
i) 6.16 ii) 5.50 iii) 0.234 iv) 2.65 v) 22.9

(4) i) $50p + 20p + \underline{\hspace{2cm}} = 1$ rupee.

ii) 7 rupees = _____paise.

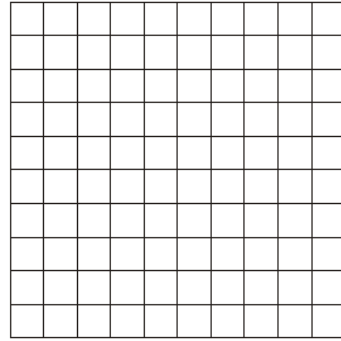

(5) How many edges and corners a cube has? _____

II.Q:1. Draw floor map of the given drawing of the house.



Q: 2. (1) Make a nice design by coloring 0.65 part of this square red and 0.15 as yellow.



(2) Make a nice design by coloring 0.40 part of this square red and 0.25 as yellow.



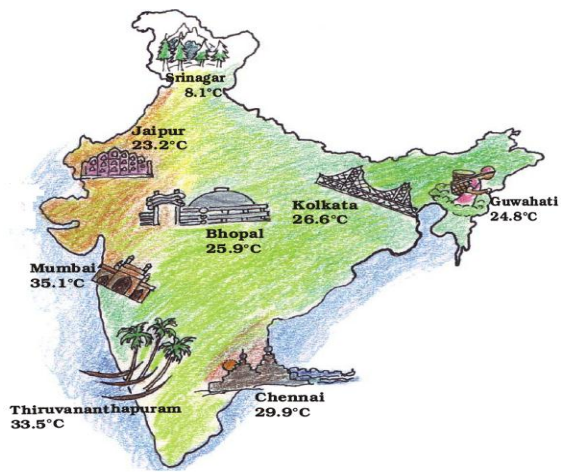
1 (i) Solve mentally. (1) $0.6 - 0.25$ (2) $1.75 + 33.125$ (3) $0.25 + 0.75$ (4) $156.77 - 75.136$

ii. Fill in the blank. (a) one-tenth = (b) ten-hundredth =

III) (a) Which candle is bigger and draw it? (b) Which candle is smaller and draw it?



(ii) Read the given map carefully and answer the questions given.

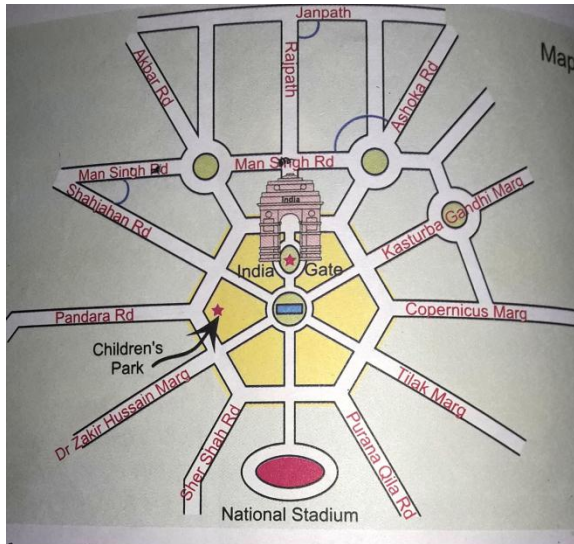


Q1. Which place has the highest temperature?

Q 2. Which place is the coolest?

Q: 3. How much will the temperature need to rise to reach 40° C in Jaipur?

Q: 4. How much lower is the temperature of Guwahati from that of Mumbai?

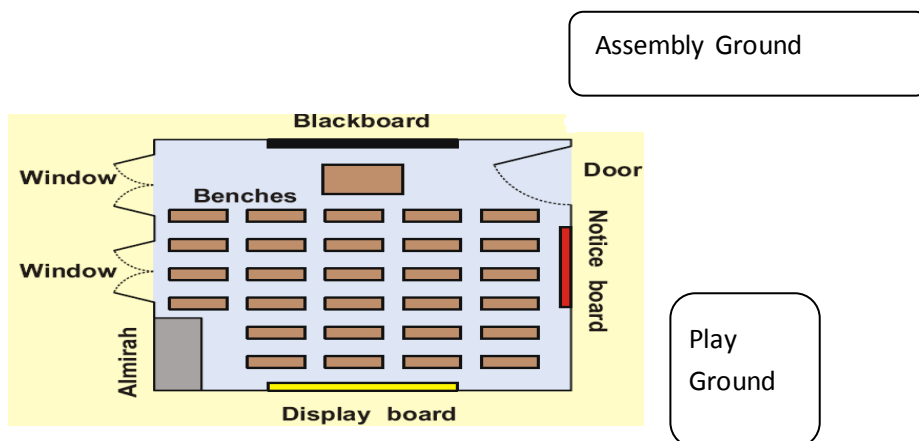


1.If you are walking on rajpath then after India Gate on which side would the children's park

be ?

2. Which of the above pairs of roads cut at right angles ?

3. (i) look at the given map and answer the following question.(4)



(a) What exactly opposite to Notice board?

- (i) Display board (ii) Black board (iii) Window
 (b) A class can see _____ ground from their window.
 (c) Display board is placed in _____ direction.
 (d) If you enter in the class notice board is in _____ hand side.

1. (i) Change the given fraction into decimals

- (1) $\frac{7}{10}$ (2) $\frac{98}{100}$ (3) $\frac{4}{100}$ (4) $\frac{555}{100}$

(ii) Change the decimal form into fraction

- (1) 0.009 (2) 9.27 (3) 45.056 (4) 5.567

2(i) Look at price of the products and answer the question below.



1) How much money should I pay to purchase?

2) 3 hand bags = _____?

3) 2 clocks = _____?

4) How many matchboxes can be got for Rs 2.50?

(ii) Multiply the given numbers . (1) 2.11×3.2 (2) $327 \times 1.5 =$

3. Calculate and complete the given table.(4)

Length	Width	Perimeter	Area
20 c.m	4 c.m		
		60 c.m	900 Square cm
10 c.m	8c.m		
11c.m		44c.m	

Calculations:

Solve the followings

- (i) The fencing of a square garden is 40m in length. How long is one side of the garden?
- (ii) Square carrom board has a perimeter of 320 cm. How much is its area?
- (iii) How much will a one and half a dozen egg cost?



2 .Arbaz plans to tile his kitchen floor with green square tiles. Each side of the tile is 10cm. His kitchen is 220cm in length and 180cm wide. How many tiles will he need? (2)

Subject- evs class – 4

Q.1 Give two examples of

(1) vegetables with seeds

(2) fruits without seeds

**(3) fruits that spoil quickly
smooth to touch**

(4) vegetables which are

Q.2 Answer the following questions in the space provided:

(1) What are weeds?

(2) How can you prepare ORS at home ?

(3) List any four features of living things.

4)Why do bird makes nest?

5) Who came to receive Nandita on the station?

6) Why did appa told the visitor not to drink water?

7) What are the four different uses of water?

8) Why were the women angry?

.

A Nandita came to Mumbai _____ ago for her _____ treatment.(A MONTH/YEAR/MOTHER/FATHER)

B Nandita used to go to hospital by _____ to see her mother.(MAMA/FATHER)

C _____ sleep during the day and awake at night.(CROW /OWL)

D If diarrhea does not stop, it is important to get the advice of _____(DOCTOR/POLICE)

E National bird of India is _____(COCK/PECOCK)

10) Answer the following question

Write down the differences between river, sea and ocean.

How does the river water get polluted?

Give three uses of Khunti.

How is Indian robin's nest made.

Why did Nandita close the tap in the Babloo's house?

What things was Nandita afraid to do when she first came to Mumbai?

List three way of saving water.

Name any three disease caused by dirty water.

Q-3) Match the following according to the places where the birds make their nest

a) Dove	In or around our house
b) Indian Robin	Old buildings
c) Crow	Hangs from branch of a tree
d) Sparrow	Courtyard, thorns, mehendi hedge
e) Pigeon	Hole in a tree trunk
f) Coppersmith	Between the stones
g) Sunbird	High up on a tree

Make a model of any nest and write few lines about it.

Collect the pictures of different types of building from newspaper and prepared a collage work.

Prepare model of one instrument of farmer example –sickle, illige , Khunti etc.

Write poems on different spices of kitchen.

KENDRIYA VIDYALAYA JUNAGADH

REVISION QUESTIONS FOR PT – II

CLASS: III

SUBJECT : MATHS

1. Fill in the blanks.

1 Litre- _____ ml

Half Litre- _____ ml

5 litres = _____ ml

8 347 g = _____ kg _____ g

5045 ml = _____ l _____ ml

9000 ml = _____ l

2. How much do these things cost?

a) 2 pencils cost Rs. _____ (Rs. 2 each)

b) 4 water bottles cost Rs. _____ (Rs. 20 each)

c) $6+6+6+6+6+6+6+6+6+6 = \underline{\quad} \times 6 = \underline{\quad}$

d) A brick weight _____ (more or less) than 1 kg

3. Fill in the blanks:

a) 3, 6, 9 _____, _____

b) 5, 10, 15 _____, _____

c) 4, 8, 12 _____, _____

d) $7+7+7+7=7 \times \underline{\quad} = 28$

e) $8 \times 5 = \underline{\quad}$.

f) 1 kg = _____ gm

4. Multiply :

a) 47×4 b) 56×3

5. Multiply using column method :

a) 34×23 b) 85×62

6. Tell how many times?

a) $5 + 5 + 5 + 5 + 5 = \underline{\quad} \times \underline{\quad}$ b) $10 + 10 + 10 + 10 + 10 + 10 = \underline{\quad} \times \underline{\quad}$

7. Find and colour the even numbers with red colour in the table given below:

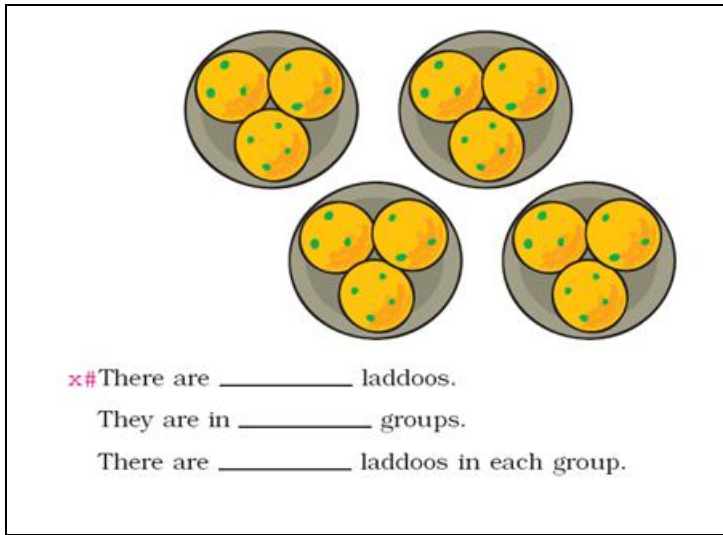
68	89	114	105
233	462	67	46
504	37	246	111
91	100	79	82

8. Fill in the blanks:

a) $4 \times 7 = \underline{\quad}$ b) $9 \times \underline{\quad} = 81$

c) _____ $\times 1 = 15$ d) _____ $\times 8 = 56$

8. A) Observe and answer :



B. Look at these growing patterns. Find out what to add to each number to get the next one:

a) 1, 3, 6, 10, _____, _____, _____, _____, _____

b) 0, 2, 6, 12, _____, _____, _____, _____, _____

c) 1, 3, 7, 13, _____, _____, _____, _____, _____

d) 2, 3, 6, 11, 18, _____, _____, _____, _____, _____

9. Divide and answer :

a) $70 \div 10 =$ _____ b) $45 \div 9 =$ _____ c) $20 \div 5 =$ _____

ii) 1 pencil box costs Rs 10.

3 pencil boxes cost _____ rupees.

10 pencil boxes cost _____ rupees.

